



**Первый этап республиканской олимпиады
по учебному предмету «История Беларуси в контексте всемирной
истории» 2024/2025 учебный год
10 класс**

№ задания	Баллы	Фамилия, инициалы члена жюри, который проверяет вопрос	Подпись
1			
2			
3			
4			
5(тесты)			
Всего баллов		Председатель жюри	

УВАЖАЕМЫЙ УЧАСТНИК ОЛИМПИАДЫ!

Перед Вами задания первого этапа республиканской олимпиады.

Предлагаемые Вам вопросы связаны с различными проблемами всемирной истории и истории Беларуси. Отвечая на них, старайтесь излагать логично, использовать понятийный аппарат, аргументировать собственную точку зрения. Количество полученных баллов зависит от точности, полноты и качества Вашего ответа. Тестовые задания на выбор правильного ответа оцениваются одним баллом, большинство заданий на соответствие и установление последовательности – двумя баллами.

Задания выполняются на русском и/или белорусском языках (по выбору).

ВСЕ ЗАДАНИЯ ВЫПОЛНЯЮТСЯ НА ДАННОМ БЛАНКЕ.

Время выполнения заданий 150 минут.

ЖЕЛАЕМ УСПЕХА!

1. Максимальное количество баллов за задание – 24.

ЗАПОЛНИТЕ СРАВНИТЕЛЬНУЮ ТАБЛИЦУ «ОСНОВНЫЕ ЭТАПЫ РАЗВИТИЯ ПЕРВОБЫТНОГО ОБЩЕСТВА НА ТЕРРИТОРИИ БЕЛАРУСИ»

	Каменный век	Бронзовый век	Железный век
Хронологические рамки			

Основной вид хозяйства, занятия			
Материалы для изготовления орудий труда			
Форма организации общества			

Объясните, какие изменения в жизни человека произошли в результате «неолитической революции».

2. Максимальное количество баллов за задание – 18.

РАССМОТРИТЕ КАРТУ И ОТВЕЬТЕ НА ВОПРОСЫ



1. Созданием какого государства, представленного на карте, завершилось нашествие арабов на Северную Индию в начале XIII в.? _____

2. Запишите годы существования данного государства. _____

3. Какая религия стала господствующей в результате образования данного государства? _____

4. Как называли местное население, которое не принимало веры завоевателей? _____

5. Как создание данного государства повлияло на развитие культуры? Ответ обоснуйте. _____

6. Какие события стали причиной ослабления данного государства и впоследствии привели к прекращению существования? _____

3. Максимальное количество баллов за задание – 26.

РАССМОТРИТЕ КАРИКАТУРУ И ФОТОГРАФИЮ И ОТВЕЬТЕ НА ВОПРОСЫ



1. Какое событие представлено на карикатуре 1? Запишите название и точную дату. _____

2. Назовите государства, которые были участниками данного события. _____

3. Проявлением какой политики является это событие? Дайте определение этой политикию _____

4. Кого символизируют персонажи карикатуры? Приведите обоснования своим выводам. Волк – _____

Два человека на первом плане – _____

Человек на заднем плане – _____

5. Какие идеи хотел донести автор карикатуры? _____

6. Участник данного события (2 фотография), автор фразы «Я привез мир нашему поколению». Где, когда и кем была произнесена данная фраза? _____

4. Максимальное количество баллов за задание – 22.

ПРОЧИТАЙТЕ ВЫДЕРЖКУ ИЗ ДОКУМЕНТА И ОТВЕЬТЕ НА ПРЕДЛОЖЕННЫЕ ВОПРОСЫ

Оперативная сводка БШПД № 41 (115)

20 июля 1944 г.

Партизанские отряды и бригады Белоруссии в период наступления частей 1-го Прибалтийского, 1-го, 2-го и 3-го Белорусского фронтов наносили удары по коммуникациям, тылам и отступающим колоннам противника, захватывали и удерживали до подхода частей Красной Армии населенные пункты и переправы на водных рубежах, вели бои совместно с частями Красной Армии, помогали им восстанавливать дороги и мосты. За время с 20.6 по 20.7, по неполным данным, партизанами взорвано 59 017 рельс, пущено под откос 96 вражеских эшелонов, разгромлено 4 железнодорожные станции, взорвано 12 железнодорожных мостов и 70 мостов на шоссейных и грунтовых дорогах, разрушено 200 км линии связи, уничтожено 25 танков и бронемашин, 410 автомашин, захвачено 9 переправ, 7 районных центров и ряд других населенных пунктов, истреблено 8075 и взято в плен 8940 вражеских солдат и офицеров, в том числе захвачен в плен командир 45 подразделения генерал-майор Энгельс Иоахим и несколько старших офицеров.

1) Расшифруйте аббревиатуру БШПД. _____

2) Когда был создан этот орган? Кто являлся его руководителем? _____

3) Дайте определения понятий:
«Партизанское движение» – _____

«Партизанская бригада» – _____

«Рельсовая война» – _____

4) Какой этап «рельсовой войны» представлен в документе? Запишите его хронологические рамки. _____

5) Какие факты свидетельствуют о сотрудничестве партизанских отрядов с частями Красной Армии? Ответ поясните. _____

5. *Максимальное количество баллов за тестовые задания – 60.*

Выберите правильный вариант ответа

1. Корона царей Верхнего Египта была «цвета»:

А) Белого Б) Красного В) Чёрного Г) Синего

2. К числу достижений ассирийского правителя Саргона II относится:

А) покорение Египта
Б) создание постоянного войска
В) разгром государства Урарту
Г) наложение дани на хеттов

3. Первые Олимпийские игры в Древней Греции состоялись в:

А) 1024 год до н.э Б) 776 год до н.э В) 410 год до н.э Г) 127 год до н.э

4. Название этого города переводится как «Врата бога»:

А) Мемфис Б) Вавилон В) Гавгамелы Г) Сузы.

5. Кремень для изготовления орудий труда первобытные «шахтёры» добывали в примитивных шахтах возле:

А). д. Юровичи Б). д. Осовец В). п. Красносельский Г). д. Бердыж

6. Первым президентом Чехословацкой республики стал:

А) В. Гавел Б) Э. Бенеш В) М. Хорти Г) Т. Масарик

7. Организация Объединенных Наций была создана в:

А) 1921 Б) 1939 В) 1945 Г) 1963

8. Восстание моряков 3 ноября 1918 г. в Киле, ставшее началом революции в Германии, было вызвано:

А) намерением командования продолжить войну
Б) неудовлетворительным продовольственным обеспечением
В) злоупотреблениями командного состава
Г) задержкой выплаты жалованья.

9. Брестский мирный договор был заключен между Германией и Советской Россией:

А) 23 февраля 1917 г. Б) 18 марта 1921 г. В) 1 января 1919 г. Г) 3 марта 1918 г.

10. Концлагерь, созданный польскими властями на территории Западной Беларуси в 1934 г. находился в:

А) Новогрудке Б) Березе-Картузской В) Бресте Г) Столине

11. Манифест, которым провозглашалось образование Социалистической Советской Республики Беларуси (ССРБ), был обнародован:

А) 25 октября 1917 г. Б) 1 января 1919 г. В) 25 марта 1918 г. Г) 3 марта 1918 г.

12. Партизанский парад, посвященный освобождению столицы БССР, состоялся в Минске:

А) 25 ноября 1943 г. Б) 3 июля 1944 г. В) 28 июля 1944 г. Г) 16 июля 1944 г.

13. Массовые волнения студентов и служащих во Франции, известные как «красный май», произошли в:

А) 1965 г. Б) 1972 г. В) 1956 г. Г) 1968 г.

14. Писатель так называемого «потерянного поколения» межвоенного периода:

А) Ф. Ницше Б) Э. Хемингуэй В) П. Пикассо Г) О. Шпенглер

15. Первой белорусской женщиной-космонавтом стала:

А) М. Василевская Б) М. Василевич В) В. Терешкова Г) О. Корбут

16. Хронологические рамки периода Античности соответствовали на территории Беларуси периоду:

А) каменного века Б) бронзового века В) железного века

Выберите 2 и более правильных вариантов ответа

17. К древним верованиям первобытных людей относятся:

А) магия Б) анимизм В) фетишизм Г) буддизм

18. К мировым шедеврам древней Индии можно отнести:

А) «Эпос о Гильгамеше» Б) «Веды» В) «Рамаяна» Г) «Махабхарата»

19. К представителям культуры Западной Беларуси межвоенного периода относятся:

А) М. Танк Б) Я. Дроздович В) Я. Купала Г) А. Кулешов

20. Определите годы принятия конституций БССР:

А) 1922 г. Б) 1927 г. В) 1937 г. Г) 1977 г.

Расставьте в правильной хронологической последовательности

21. Правления фараонов Древнего Египта:

А) Рамзес II Б) Тутанхамон В) Тутмос III Г) Эхнатон.

1- _____, 2- _____, 3- _____, 4- _____.

22. События первой половины XX века:

А) «Год великого перелома» в СССР

Б) Подписание Рапалльского договора

В) Оккупация Италией Эфиопии

Г) Провозглашение Китайской Советской Республики.

1- _____, 2- _____, 3- _____, 4- _____.

23. События второй половины XX века:

- А) Карибский кризис
- Б) Падение Берлинской стены
- В) XX съезд КПСС
- Г) Год Африки

1- _____, 2- _____, 3- _____, 4- _____.

24. События XX века истории Беларуси:

- А) Начало проведения политики «белорусизации»
- Б) Поход Красной Армии в Западную Беларусь.
- В) Выпуск первых самосвалов БелАЗ
- Г) Подписание делегацией БССР Устава ООН

1- _____, 2- _____, 3- _____, 4- _____.

Соотнесите:

25. События всемирной истории XX в. и их даты:

А) Провозглашение государства Израиль	1) 1968 г.
Б) Авария на Чернобыльской АЭС	2) 1948 г.
В) Победа Кубинской революции	3) 1986 г.
Г) «Пражская весна»	4) 1959 г.

А- _____, Б- _____, В- _____, Г- _____.

26. Греческих богов с соответствующими им по функциям Римскими богами:

А) Зевс	1) Плутон
Б) Аид	2) Юнона
В) Гера	3) Юпитер
Г) Афродита	4) Венера

А- _____, Б- _____, В- _____, Г- _____.

27. Имена белорусских писателей с их произведениями:

А) Аркадий Кулешов	1) «Колосья под серпом твоим»
Б) Василий Быков	2) «Меч князя Вячки»
В) Владимир Короткевич	3) «Прощай...»
Г) Леонид Дайнеко	4) «Знак беды»

А- _____, Б- _____, В- _____, Г- _____.

28. Исторический термин и его определение:

А) Маккартизм	1) возмещение побежденным государством ущерба, причиненного государству, подвергшемуся нападению.
Б) Репарации	2) процесс быстрого создания крупного машинного производства во всех отраслях народного хозяйства и преимущественного развития промышленности.
В) Референдум	3) политическое течение, направленное против левых и либеральных деятелей и организаций в США.
Г) Геноцид	4) форма непосредственного волеизъявления граждан, выражающаяся в голосовании по наиболее значимым вопросам общегосударственного, регионального или местного масштаба.
Д) Индустриализация	5) разгосударствление, переход имущества из государственной собственности в частную или коллективную.
Е) Приватизация	6) уничтожение определенных групп населения по расовым, национальным, религиозным признакам.




А- _____, Б- _____, В- _____, Г- _____, Д- _____, Е- _____.

29. Политического деятеля и связанные с ним понятия:

А)	Б)	В)	Г)
			
1) Кемалистская революция.	2) Реформы в Иране.	3) Соляной поход	4) Кубинская революция

А- _____, Б- _____, В- _____, Г- _____.

30. Художественное произведение и его автора

А)	Б)	В)	Г)
			
1) С. Дали	2) А. Кищенко	3) М. Савицкий	4) Д. Ривера

А- _____, Б- _____, В- _____, Г- _____.

«Историческая математика». Основываясь на дату и место, определите событие:

31.	7 ноября 1917 г. + Петроград =	
32.	28 июня 1919 г. + Париж =	
33.	23 августа 1939 + Москва =	
34.	6 июня 1944 г. + Нормандия =	

Определите, с историей каких стран связаны приведенные ниже понятия:

35.	Франкизм	
36.	Санация	
37.	Доктрина Трумэна	
38.	Тэтчеризм	
39.	«Красные бригады»	
40.	«Ускорение и перестройка»	

Отметьте «птичкой» в соответствующей клетке событие, произошедшее раньше:

41.	Появление буддизма		ИЛИ		Возникновение цивилизации ольмеков
42.	Провозглашение независимости Литбел		ИЛИ		Подписание Рижского мирного договора
43.	Декларация независимости Беларуси		ИЛИ		Вывод советских войск из Афганистана
44.	Исламская революция в Иране		ИЛИ		Фолклендская (Мальвинская война)

О какой личности идёт речь в тексте:

45.	Участница Великой Отечественной войны. За восемь месяцев вынесла с поля боя 123 раненых. Осталась в живых после ранения и обморожения, она перенесла восемь операций, потеряла руки и ноги.	
46.	Народная артистка БССР и СССР. Почти 70 лет служила в Белорусском государственном академическом драматическом театре имени Я. Купалы, где сыграла около 200 ролей	
47.	Лидер Индийского национального конгресса, единственная женщина – премьер-министр Индии.	
48.	Белорусский музыкант, композитор, народный артист БССР и СССР, основатель и художественный руководитель «Песняров».	